


CLASSE PS/MS 1  
ANIZY LE GRAND

MOYENNE SECTION  
2/3


de Marie-Laure Marcellelin

Aujourd'hui, les élèves de moyenne section essaient d'imiter cette autre œuvre de Paul Cézanne. Pensez-vous qu'ils ont préparé assez de pommes ? Pouvez-vous les aider à compléter pour avoir autant de pommes que sur le tableau ? Combien avez-vous ajouté de pommes ?



Nature morte aux pommes et pâtisseries

1 Découvrir et décrire différentes natures mortes de Paul Cézanne. Essayer de les reconstituer.



2 S'entraîner à mettre autant de fruits dans l'assiette que le modèle proposé.

3 Résoudre le problème en séparant les pommes jaunes et les pommes rouges.  
Placer les pommes jaunes qui manquent, puis les rouges qui manquent.





4 On vérifie s'il ne manque pas de pomme ou s'il y en a trop. Mawa en retire une.



DEFI MATHS 2025 - 2026


Cycle 1

Manche 1

### MOYENNE SECTION

3/3

Colle ici les pommes manquantes. Il doit y avoir en tout autant de pommes que sur le tableau.



Réponse

POMME