


LES PARCOURS D'ATHLETISME



L'athlétisme est le sport le plus ancien dont nous avons des traces, puisqu'il apparaît dès les Jeux Olympiques de l'Antiquité. Du fait de ces nombreuses catégories et disciplines, l'athlétisme est le sport individuel qui comporte le plus de participants aux Jeux Olympiques.

Le programme sur piste contient des épreuves masculines et féminines de sprint, de demi-fond et de fond, ainsi que des courses de haies, de steeple et des relais. Ces épreuves se déroulent toutes sur la piste du stade olympique, qui est d'une longueur de 400 mètres et est composée de deux lignes droites et de deux demi-cercles.

Pendant les Jeux de Paris 2024, les épreuves d'athlétisme se dérouleront du 1er au 11 août et c'est le Stade de France qui se transformera en stade olympique, et accueillera toutes les épreuves sur piste.

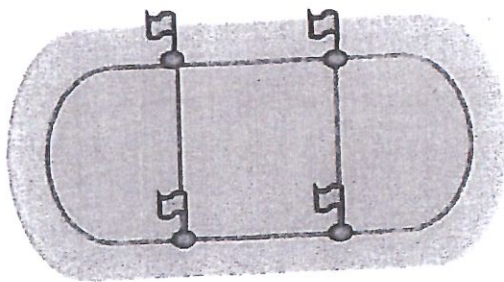
Voici des parcours tracés en rouge sur une piste d'athlétisme.

Choisissez un point de départ (à choisir parmi les drapeaux) et parcourez les différents chemins rouges en ne passant qu'une seule fois au même endroit.

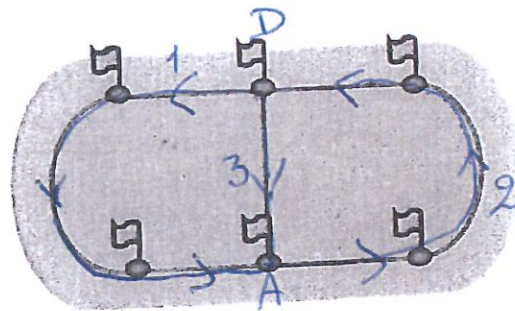
CM1 : faire les PARCOURS A, B, C ET D

CM2 : faire TOUS LES PARCOURS

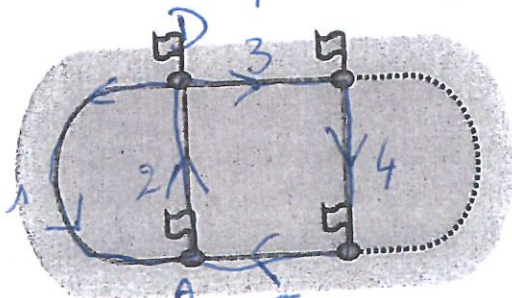
Tous les parcours sont-ils possibles, en respectant la consigne soulignée?



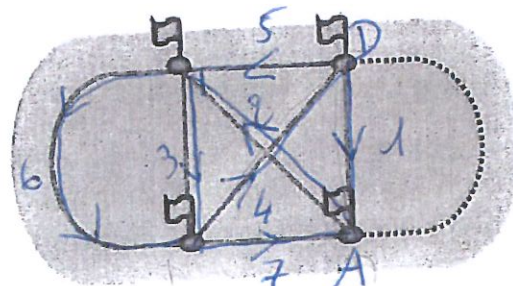
PARCOURS A
impossible



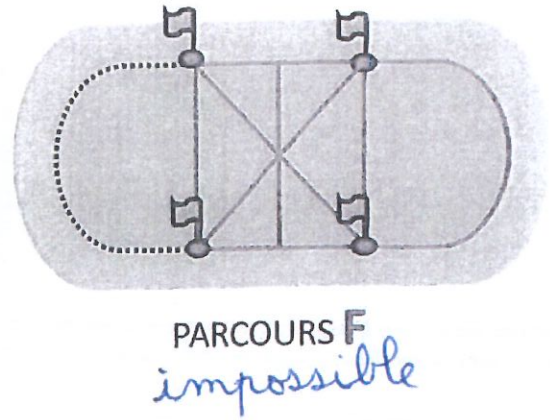
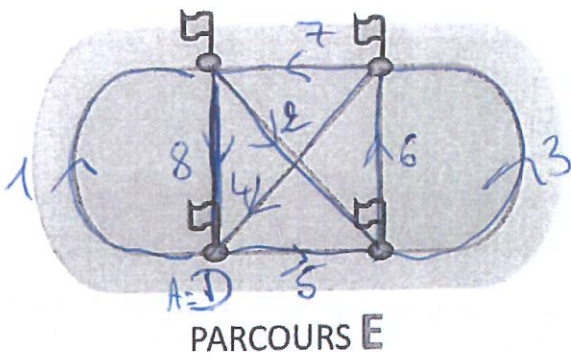
PARCOURS B



PARCOURS C



PARCOURS D



JUSTIFICATIONS et REPONSES :

parcours A = impossible ,
parcours F = impossible .