


## Défi maths manche 2

## Le tir à l'arc

CLAIRE




Claire a lancé une seule flèche, elle a trois points.

Sa flèche est dans le rouge.

La réponse est validée par les élèves.

TOM




Tom a lancé deux flèches, il a trois points.

Une flèche dans le vert, l'autre aussi.

En dénombrant, les élèves s'aperçoivent que le résultat n'est pas celui attendu.

La réponse n'est pas validée.




Une flèche dans le vert, l'autre dans le bleu.

En comptant, il y a bien trois points.

La réponse est validée par les élèves.

HUGO




Hugo a lancé trois flèches, il a trois points.

Une flèche dans le rouge, une autre dans le vert, la dernière dans le bleu.

En dénombrant, les élèves s'aperçoivent que le résultat n'est pas celui attendu.

Il y a beaucoup trop de points.

La réponse n'est pas validée.




Une flèche dans le bleu, une autre dans le vert, la dernière dans le bleu.

En dénombrant, les élèves s'aperçoivent que le résultat n'est pas celui attendu.

Il y a un petit peu trop de points.

La réponse n'est pas validée.



Une flèche dans le bleu, une autre dans le bleu, la dernière dans le bleu.

En dénombrant, il y a bien 3 points.

Cette réponse est validée par les élèves.