


DEFI-MATHS – Manche 2

Première épreuve – Le tir à l’arc


Pour commencer les enfants s’approprient l’activité et décident de marquer les valeurs sur la cible pour ne pas se tromper. Ils font le parallèle avec la cible que nous avons utilisée en classe pour découvrir ce sport olympique.



+ fichier audio

- Si la fléchette arrive sur
- Le blanc, elle rapporte 1 point
  - Le noir, elle rapporte 2 points
  - Le bleu, elle rapporte 3 points
  - Le rouge, elle rapporte 4 points
  - Le jaune, elle rapporte 5 points

La classe est ensuite divisée en plusieurs équipes qui cherchent à résoudre ce problème.







Les réponses sont ensuite vérifiées collectivement et validées sur l'ENI.





La réponse retranscrite (cf vidéo).

« Alors en fait sur le tirage ici, il fallait voir qui avait gagné sur le podium. D'abord c'était Claire, après c'était Tom et après Hugo. Et Hugo (TOM) il avait marqué 8, on a décidé de mettre un 2, un 2 et un 4. Pour Claire on a mis un 5, un 3 et un 1. Et pour Hugo, on a mis un 1, un 4 et un 2 mais je sais si c'était ça. ». Les enfants se sont rendus compte d'une erreur pour Tom, ils ont alors changé la réponse sur l'ENI.

**En utilisant trois fléchettes, Hugo a réalisé 4 points, Claire a réalisé 9 points et Tom a réalisé 8 points.  
Pouvez-vous placer les 3 flèches sur la cible ?**

4



Hugo






Il y a eu ensuite des discussions autour des réponses pour Tom car différentes selon les équipes.

En utilisant trois fléchettes, Hugo a réalisé 4 points, Claire a réalisé 9 points et Tom a réalisé 8 points.

8

Tom



Mais finalement, elles ont toutes été validées par la classe.

## Deuxième épreuve – la devinette

