

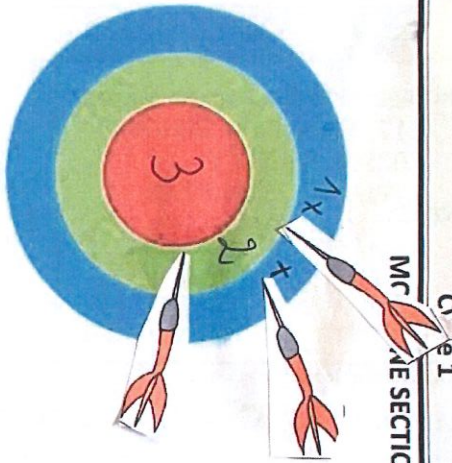
1) 8m parard 3 fliches

DEFI MATHS 2023 - 2024

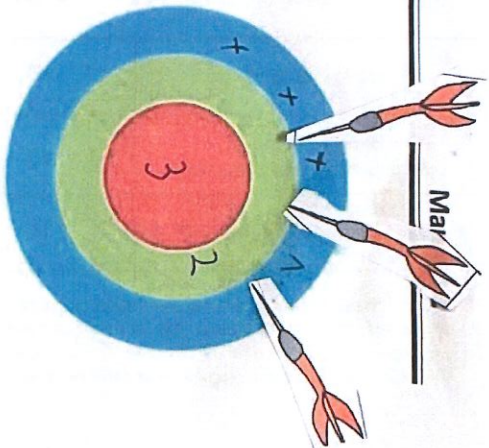
Cycle 1  
MATHÈME SECTION




Hugo



Claire



Tom



Hugo On essaye de faire 4 points.  
Il tire dans le bleu, 1 point.  
Il manque 3 points. Donc si il tire  
dans le vert, ça fait 2 points.  
On a alors 1 et 2, ça fait 3 points.  
Il en manque encore un, donc il tire  
dans le bleu encore une fois et ça fait  
3 et 1, 4 points.

Claire (3 points)

Si on met dans le rouge, on ne peut pas  
avoir 3 flèches.

Si on met dans le bleu = 1 point, il  
reste 2 points. Donc il faut encore  
deux dans le bleu car 1 et 1 et 1, ça  
fait 3.

Tom

On met une dans le rouge, ça fait  
3 points. Donc pour faire 5 points il en  
manque 2.

Pour faire 2 points, il faut 1 et 1 donc  
2 flèches dans le bleu.

Alors 3 et 1 et encore 1 ça fait  
5 points.