

ESPACE ET GEOMETRIE - CM

LA FLAMME OLYMPIQUE



Le relais de la flamme olympique des Jeux de Paris 2024 entamera son parcours en France le 8 mai 2024 avec l'arrivée de la flamme à Marseille avant 68 jours de voyage à travers le territoire français.

Le sais-tu ? La flamme Olympique passera au Nord de Paris !

Découvrez par quelles villes étapes elle passera exactement. **Attention, ce n'est pas le nom qui compte sur la carte mais le petit carré qui localise la ville. (carte en annexe)**

1) A partir de la case D (départ), suis le code suivant et colorie la case d'arrivée **en bleu**.



Dans quelle grande ville-étape arrivera la flamme le jeudi 4 juillet 2024? Compiègne

Dans quel département se trouve-t-elle? La Somme 80

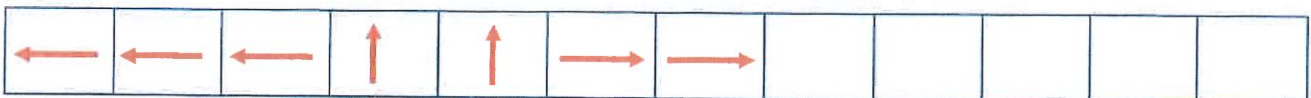
2) A partir de la case D (départ) , suis le code suivant et colorie la case d'arrivée **en vert**.



Dans quelle grande ville-étape arrivera la flamme le 17 juillet 2024 ? St Quentin

Dans quel département se trouve-t-elle? l'Aisne 02

3) A partir de la case D (départ) , suis le code suivant et colorie la case d'arrivée **en rouge**.

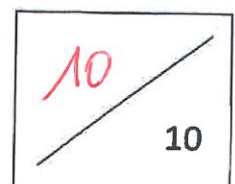
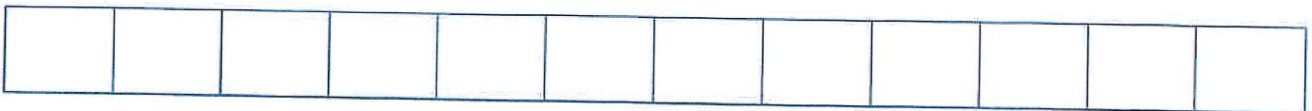



Dans quelle grande ville-étape arrivera la flamme le 18 juillet 2024 ? Beaumont

Dans quel département se trouve-t-elle? l'Aisne 60

4) La flamme passera aussi par la ville de Lens-Liévin.

A vous de trouver le chemin permettant d'y aller, en partant de la case D et en utilisant le moins possible de flèches. Tracez-le en jaune et écrivez le code dans les cases ci-dessous. Vous pouvez ajouter des cases si besoin.





# CM1 Villeneuve s/ Aisne (5)

