

ESPACE ET GEOMETRIE - CM

PARIS 2024




Le relais de la flamme olympique des Jeux de Paris 2024 entamera son parcours en France le 8 mai 2024 avec l'arrivée de la flamme à Marseille avant 68 jours de voyage à travers le territoire français.

Le sais-tu ? La flamme Olympique passera au Nord de Paris !

Découvrez par quelles villes étapes elle passera exactement. **Attention, ce n'est pas le nom qui compte sur la carte mais le petit carré qui localise la ville. (carte en annexe)**

1) A partir de la case D (départ), suis le code suivant et colorie la case d'arrivée en bleu.




Dans quelle grande ville-étape arrivera la flamme le jeudi 4 juillet 2024 ?

Dans quel département se trouve-t-elle ?

*Compiègne*  
*Seine-et-Marne*

2) A partir de la case D (départ) , suis le code suivant et colorie la case d'arrivée en vert.




Dans quelle grande ville-étape arrivera la flamme le 17 juillet 2024 ?

Dans quel département se trouve-t-elle ?

*S. T. Quentin*  
*Aisne*

3) A partir de la case D (départ) , suis le code suivant et colorie la case d'arrivée en rouge.



Dans quelle grande ville-étape arrivera la flamme le 18 juillet 2024 ?

Dans quel département se trouve-t-elle ?


*Beauvais*  
*Oise*

DEFI MATHS 2023/2024 Cycle 3 Manche 1

4) La flamme passera aussi par la ville de Lens-Liévin.

A vous de trouver le chemin permettant d'y aller, en partant de la case D et en utilisant le moins possible de flèches. Tracez-le en jaune et écrivez le code dans les cases ci-dessous. Vous pouvez ajouter des cases si besoin.

POUR LES CM2 : obligation d'utiliser les 3 sortes de flèches :

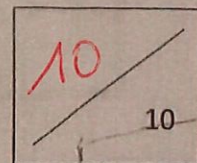


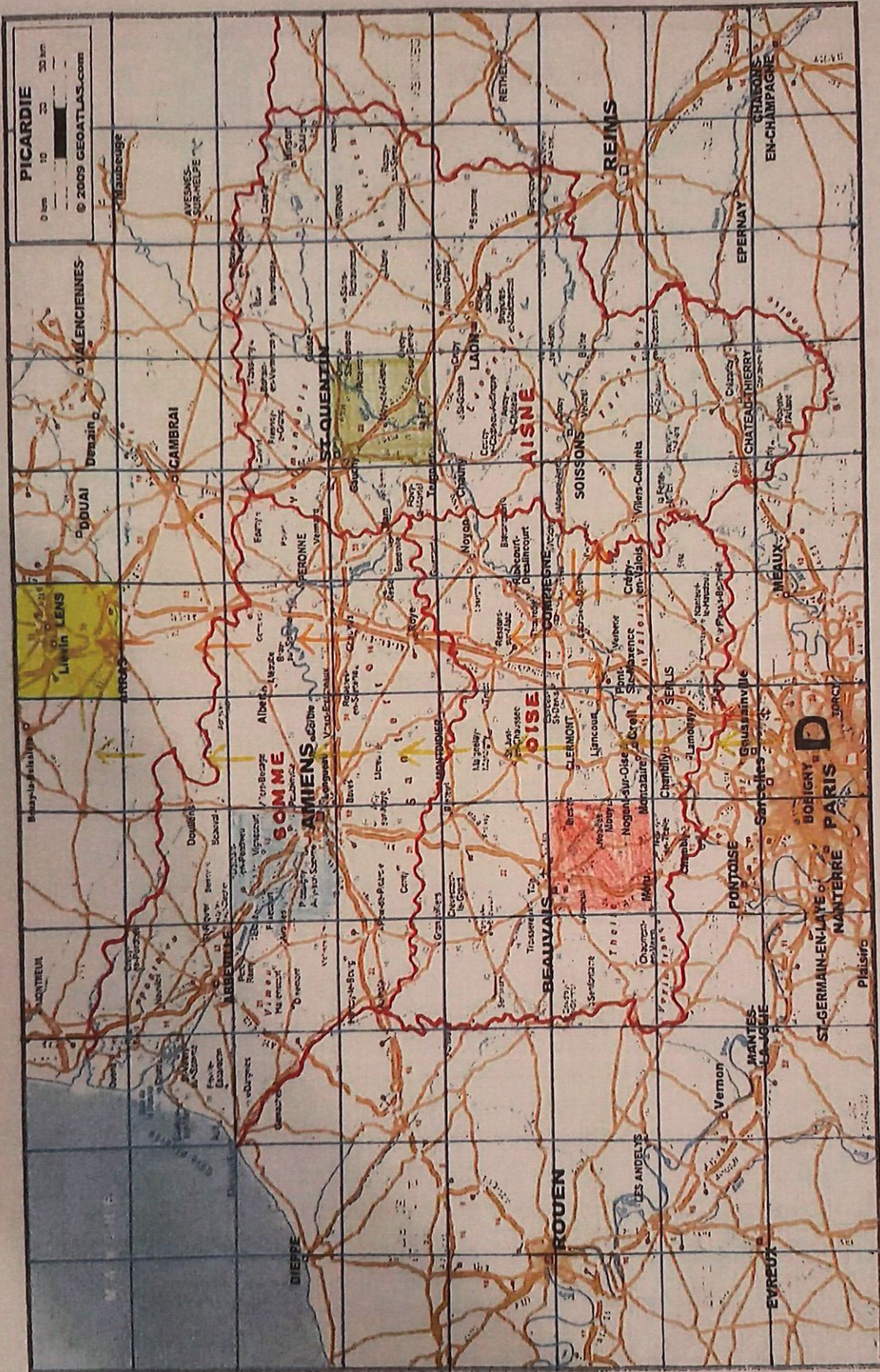
CM2

↑	↑	→	→	←	↑	↑	↑	↑	↑		
---	---	---	---	---	---	---	---	---	---	--	--

CM1

↑	↑	↑	↑	↑	↑	↑	→				
---	---	---	---	---	---	---	---	--	--	--	--





— CM1

- - - CM2